

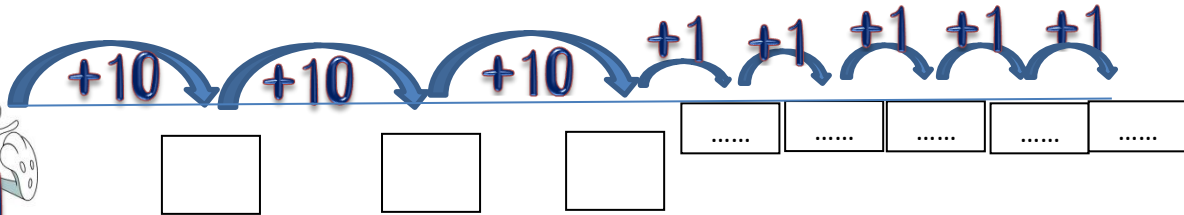
Όνομα:..... Ημερομηνία:.....

10. Φτιάχνω διψήφιους αριθμούς με προϋποθέσεις

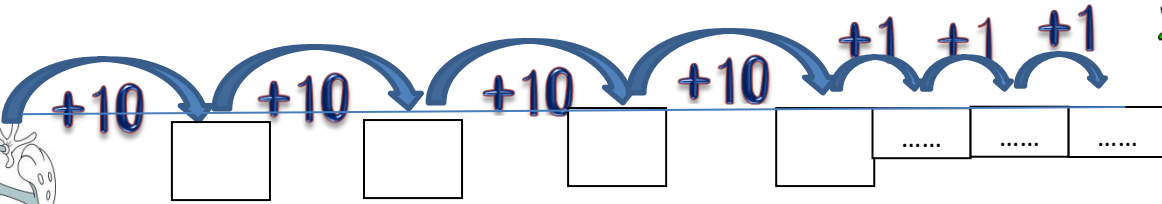
1) Ο λαγός θέλει να φτάσει στο καρότο. Βοήθησέ τον.



Θα κάνει συνολικά ...34... βήματα.



Θα κάνει συνολικά βήματα.



Θα κάνει συνολικά βήματα.



2) Τώρα βοήθησέ τον πιο πολύ! Σχεδίασε εσύ τα βήματά του μεγάλα (10-10) και μικρά (1-1):



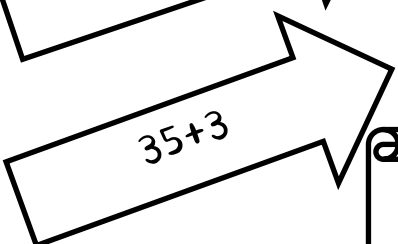
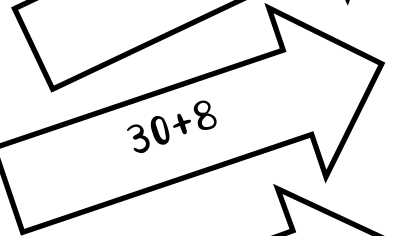

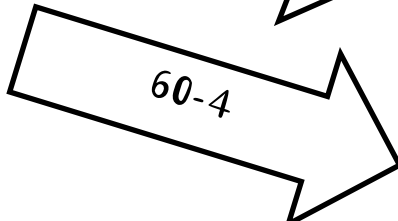


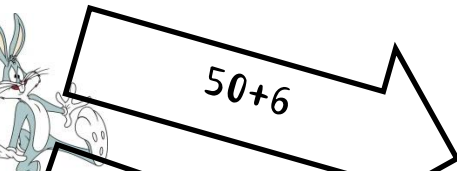
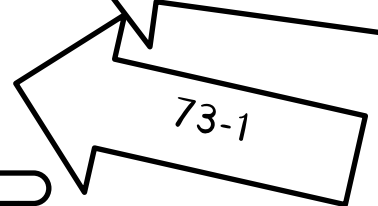
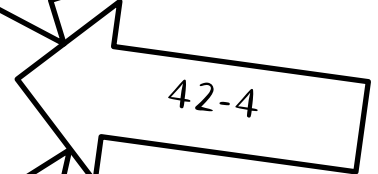



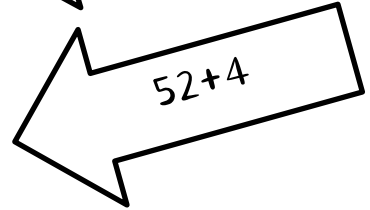
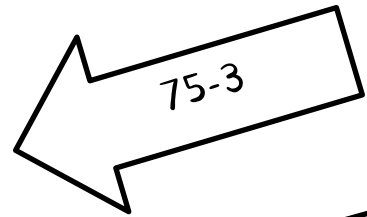
Θα κάνει συνολικά βήματα.



Θα κάνει συνολικά βήματα.



3) Διάλεξε τα σωστά βελάκια για να πετύχει ο λαγός τον στόχο-καρότο. Ένωσε κάθε βελάκι με το σωστό στόχο:



4) Σκέψου και βρες:

20-1=...
20+1=...
20-10=...
20+10=...

30-1=...
30+1=...
30-10=...
30+10=...

40-1=...
40+1=...
40-10=...
40+10=...

90-1=...
90+1=...
90-10=...
90+10=...

50-1=...
50+1=...
50-10=...
50+10=...

80-1=...
80+1=...
80-10=...
80+10=...

60-1=...
60+1=...
60-10=...
60+10=...

70-1=...
70+1=...
70-10=...
70+10=...

80-1=...
80+1=...
80-10=...
80+10=...



Σωτηρία Κίτσιου