


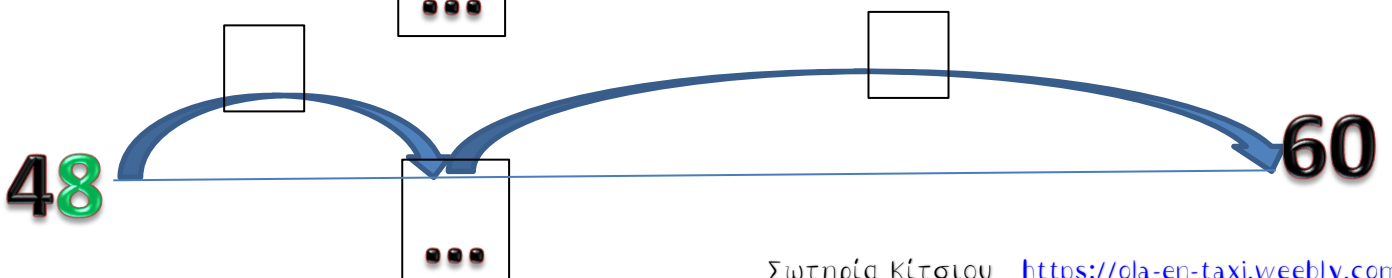

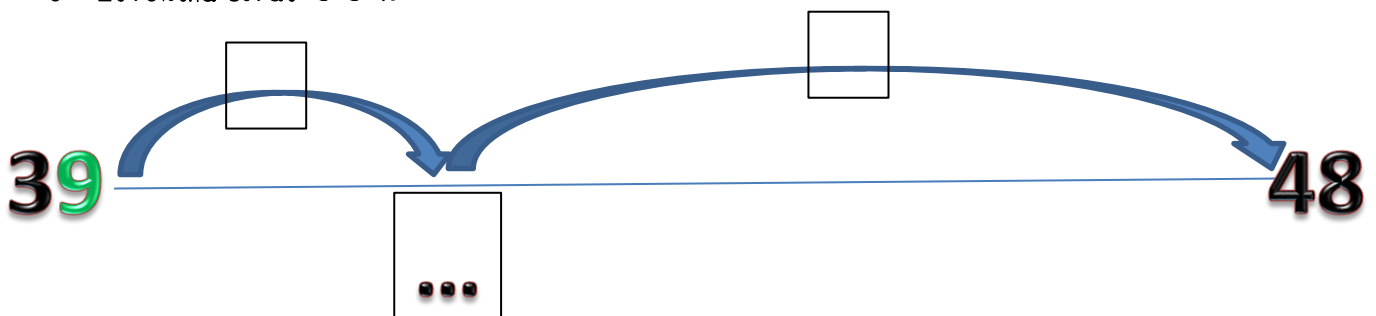
Όνομα:..... Ημερομηνία:.....

10.Φτιάχνω διψήφιους αριθμούς με προϋποθέσεις(1)

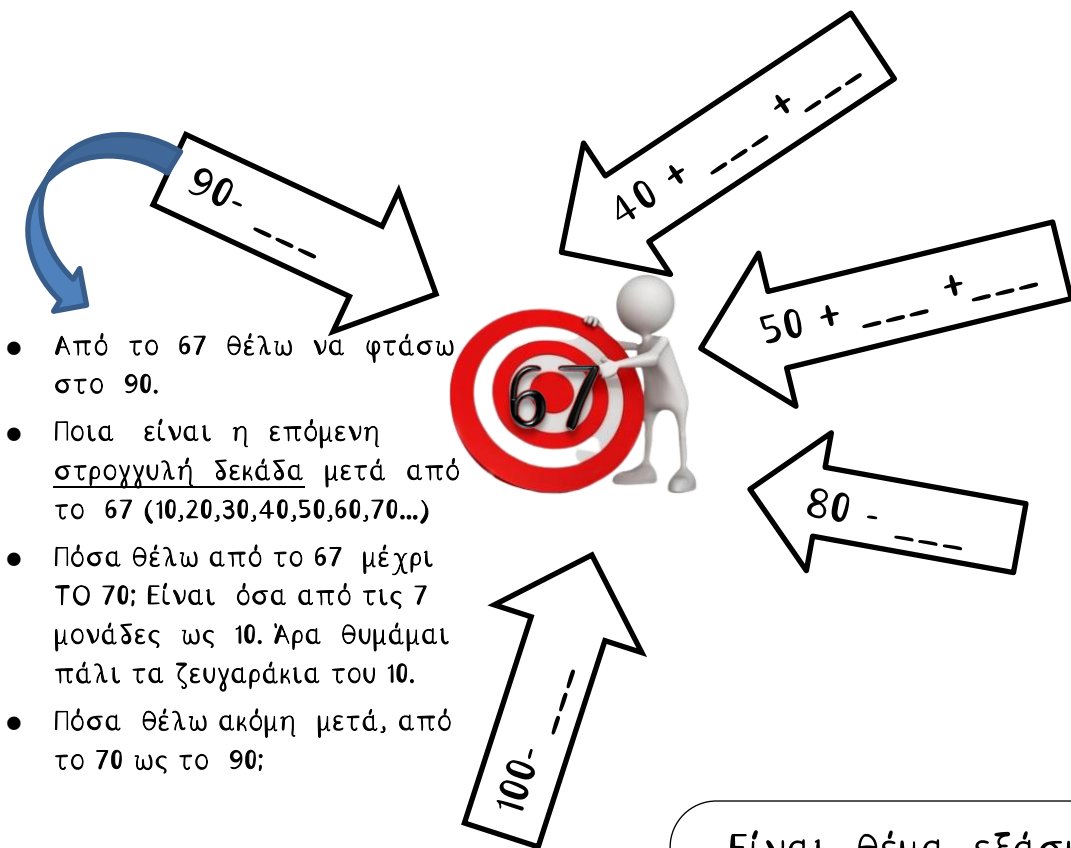
1. Σκέψου και συμπλήρωσε τους αριθμούς που λείπουν για να φτάσεις στον αριθμό - στόχο:



- Από το 32 θέλω να φτάσω στο 48.
- Ποια είναι η επόμενη στρογγυλή δεκάδα μετά από το 32 (10,20,30,40...)
- Πόσα θέλω από το 32 μέχρι εκεί; Είναι όσα από τις 2 μονάδες ως 10. Άρα θυμάμαι πάλι τα ζευγαράκια του 10.
- Πόσα θέλω ακόμη μετά, ως το 48;
- Συνολικά είναι $8+8=16$



2. Σκέψου και συμπλήρωσε τους αριθμούς που λείπουν για να φτάσεις στον αριθμό - στόχο:



- Από το 67 θέλω να φτάσω στο 90.
- Ποια είναι η επόμενη στρογγυλή δεκάδα μετά από το 67 (10,20,30,40,50,60,70...)
- Πόσα θέλω από το 67 μέχρι το 70; Είναι όσα από τις 7 μονάδες ως 10. Άρα θυμάμαι πάλι τα ζευγαράκια του 10.
- Πόσα θέλω ακόμη μετά, από το 70 ως το 90;

Είναι θέμα εξάσκησης!
Μην απογοητεύεσαι!
Προσπάθησε και θα τα καταφέρεις!

