













# 12. Υπολογίζω τα ρέστα (1)

Όνομα: \_\_\_\_\_

<p>Το 1€ έχει ----- λεπτά. <math>50λ. + 50λ. = \_\_\text{€}.</math></p>	<p>Δίνω στο ταμείο</p>	<p>Αγόρασα κάτι με...</p>	<p><b>Ρέστα</b> 1<sup>ος</sup> κύκλος: το ποσό που πληρώνω 2<sup>ος</sup> κύκλος: το συμπλήρωμα</p>	<p>Ζωγραφίζω τα ρέστα με <u>νομίσματα</u> που <u>υπάρχουν</u></p>
		<p>ΕΔΩΣΑ</p> <p>40λ. ΚΡΑΤΗΣΕ</p>	<p>50</p> <p>40 10</p> <p>ρέστα</p>	<p>10λ</p>
		<p>ΕΔΩΣΑ</p> <p>60λ. ΚΡΑΤΗΣΕ</p>	<p>100</p> <p>60</p> <p>ρέστα</p>	
		<p>ΕΔΩΣΑ</p> <p>80λ. ΚΡΑΤΗΣΕ</p>	<p>0</p> <p>0 0</p> <p>ρέστα</p>	
		<p>ΕΔΩΣΑ</p> <p>25λ. ΚΡΑΤΗΣΕ</p>	<p>0</p> <p>0 0</p> <p>ρέστα</p>	
		<p>ΕΔΩΣΑ</p> <p>50λ. ΚΡΑΤΗΣΕ</p>	<p>0</p> <p>0 0</p> <p>ρέστα</p>	
		<p>ΕΔΩΣΑ</p> <p>80λ. ΚΡΑΤΗΣΕ</p>	<p>0</p> <p>0 0</p> <p>ρέστα</p>	