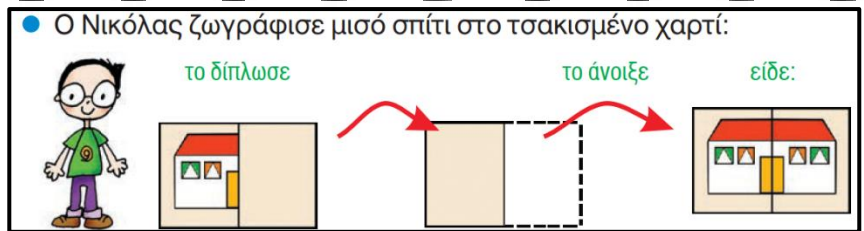
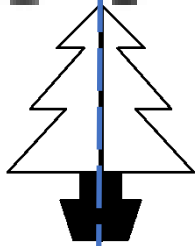



Όνομα: _____ Ημερομηνία: ___/___/___

8. Ανακαλύπτω τη συμμετρία γύρω μου (1^ο)

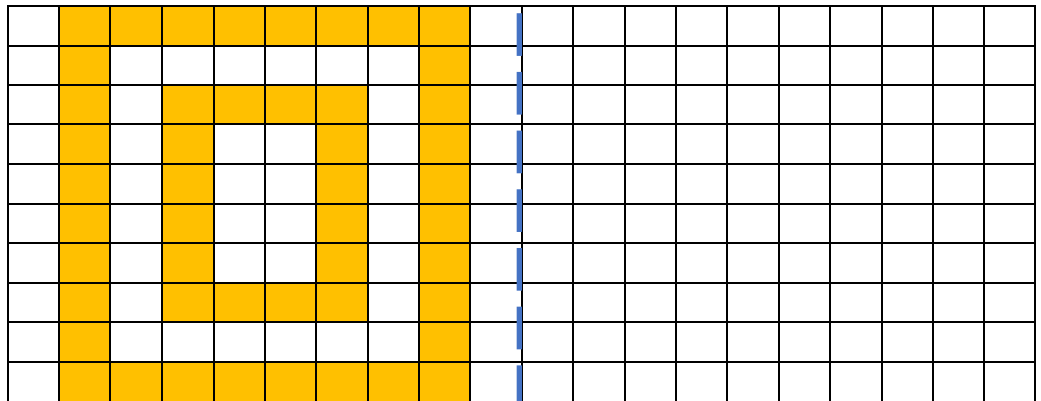
Σήμερα μάθαμε ότι:

1. Ένα σχήμα είναι συμμετρικό, όταν το διπλώσουμε στη μέση και τα 2 μισά του είναι ΑΚΡΙΒΩΣ ΙΔΙΑ.
2. Η γραμμή που χωρίζει ένα συμμετρικό σχήμα σε 2 ίδια μισά λέγεται ΑΞΟΝΑΣ ΣΥΜΜΕΤΡΙΑΣ.
3. Μπορούμε να διαπιστώσουμε τη συμμετρία σε ένα σχήμα, χρησιμοποιώντας έναν καθρέφτη, όπως βλέπεις κάτω.



άξονας συμμετρίας

Στο διπλανό σχέδιο χρωμάτισα με πορτοκαλί και έκανα αυτό που βλέπεις. Κάνε το διπλανό κι εσύ με τον ίδιο τρόπο για να είναι συμμετρικό.



Συνολικά τα πορτοκαλί κουτάκια είναι ____
Συνολικά έχουν μείνει λευκά ____ κουτάκια.
Όλα τα κουτάκια στον πίνακα είναι ____ .



Παντού γύρω μας υπάρχει συμμετρία! Σε σχέδια, γράμματα, αριθμούς...Βρες και φέρε τον άξονα συμμετρίας στα κεφαλαία γράμματα που είναι κάτω.

Κάνε τον άξονα συμμετρίας με τον χάρακά σου προσεχτικά!!!

Α Δ Ε Η Θ

Κ Λ Μ Ξ Ο

Π Σ Τ Υ Φ

Χ Ψ Ω

