

Όνομα: _____ Ημερομηνία: ___/___/_____

7. Βρίσκω το μισό και το ολόκληρο (1^ο)



Κύκλωσε
τα μισά
μπαλόνια
μου.



- Για να βρούμε το μισό, πρέπει να ξέρουμε το ολόκληρο.
- Απλά χωρίζουμε σε 2 ίσα μέρη!




Χώρισε την
παρέα δίπλα
στην μέση.
Οι μισοί θα
πάνε στο
βουνό και οι
μισοί στο
χωριό.



Χώρισε τους 12 μήνες στην μέση!
Κύκλωσέ τους σε 2 ομάδες!




Τα διπλά αθροίσματα
μάς βοηθούν πολύ να
βρίσκουμε το μισό μικρών
ή μεγαλύτερων αριθμών.



$$3+3=6$$

$$30+30=60$$


Το μισό του 60
είναι το 30.



$$2+2= \text{-----}$$

$$20+20= \text{-----}$$

Το μισό του
είναι το .



$$5+5= \text{-----}$$

$$50+50= \text{-----}$$

Το μισό του
είναι το .



$$4+4= \text{-----}$$


$$40+40= \text{-----}$$

Το μισό του
είναι το .



$$7+7= \text{-----}$$

Το μισό του
είναι το .




$$6+6= \text{-----}$$

Το μισό του
είναι το .




$$8+8= \text{-----}$$

Το μισό του
είναι το .



$$9+9= \text{-----}$$

Το μισό του
είναι το .



$$1+1= \text{-----}$$

$$10+10= \text{-----}$$

Το μισό του
είναι το .



Σωτηρία
Κίτσου
[https://ola-en-
taxi.weebly.com/](https://ola-en-taxi.weebly.com/)