

Όνομα: _____ Ημερομηνία: ___/___/_____

6. Βρίσκω την αξία των ψηφίων στους διψήφιους αριθμούς(1)

Διψήφιοι είναι για παράδειγμα οι αριθμοί: 48-20




Διψήφιοι είναι οι αριθμοί που έχουν 2 ψηφία.

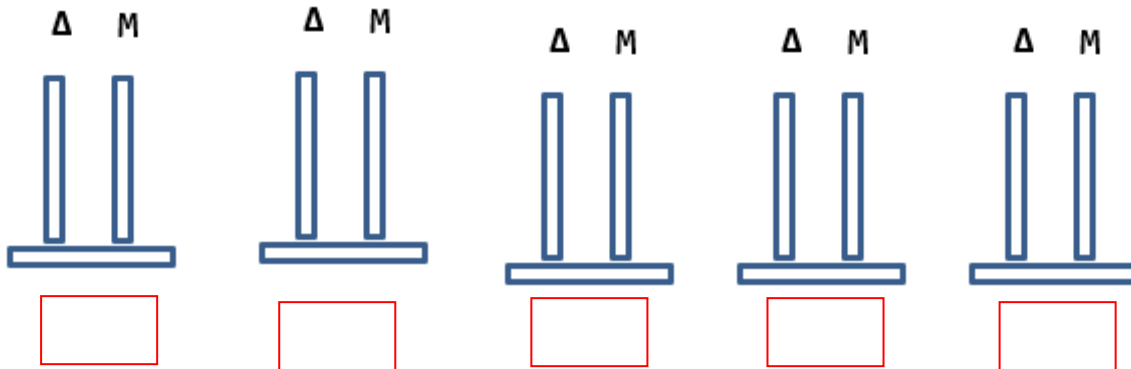
Όλοι οι αριθμοί γίνονται από τα ψηφία:

0-1-2-3-4-5-6-7-8-9

1) Διάλεξε 3 ψηφία και να τα γράψεις στις κάρτες:



• Σχημάτισε αριθμούς διψήφιους με τις κάρτες που διάλεξες:



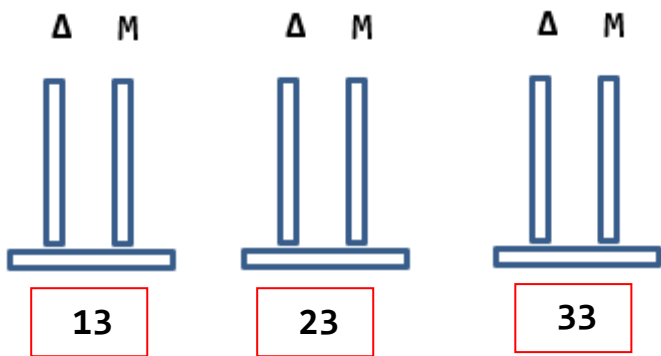
• Τους γράφω στη σειρά από τον μεγαλύτερο στον μικρότερο:



..... > > > >



2) Δείξε στους άβακες τους αριθμούς



Κύκλωσε το σωστό:

Έχουν ίδιες... Μ Δ

Έχουν διαφορετικές... Μ Δ

Ο μεγαλύτερος είναι: 13 23 33

3) Όταν διαβάζω τους αριθμούς καταλαβαίνω την αξία κάθε ψηφίου:



Πενήντα δύο

52

$50 + 2$



ογδόντα πέντε

.....

..... +



Τριάντα τρία

.....

..... +



Εξήντα οχτώ

.....

..... +

