

Όνομα:..... Ημερομηνία: .../.../.....


## 2. Φτιάχνω αριθμούς ως το 100 και τους συγκρίνω(1)

1) Γράφω τον αριθμό που είναι πριν και μετά:

Δ

.....60.....  
.....59.....  
.....70.....  
.....49.....  
.....38.....

1 μονάδα πριν και 1 μονάδα μετά



Χρωμάτισε κίτρινες τις μονάδες των αριθμών.

.....60.....  
.....59.....  
.....70.....  
.....49.....  
.....38.....

1 δεκάδα πριν και 1 δεκάδα μετά

Χρωμάτισε πράσινες τις δεκάδες των αριθμών.

2) Υπολογίζω πόσο κάνει και ενώνω προσεχτικά:

$40+10+4$  ★  
 $90+10$  ★  
 $10+10+10+10+8$  ★  
 $20+9$  ★

★ είκοσι εννέα ★  
★ σαράντα οκτώ ★  
★ εκατό ★  
★ πενήντα τέσσερα ★

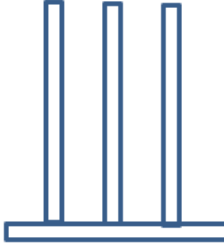
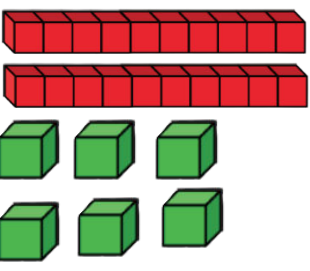
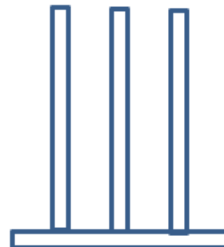
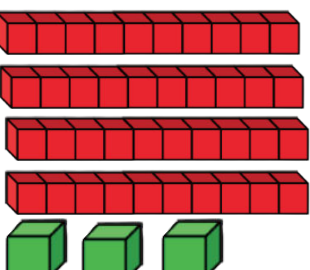
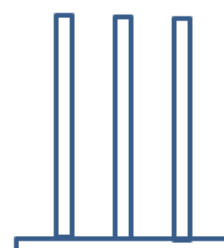
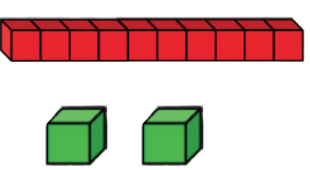
★ 100  
★ 54  
★ 29  
★ 48

3) Χρωμάτισε τις δεκάδες σε κάθε αριθμό, διάβασε τους αριθμούς φωναχτά και κύκλωσε τον αριθμό που είναι ο μεγαλύτερος από όλους:

84      56      48      33  
65      96      99



4) Συμπληρώνω τον πίνακα προσεχτικά

Με λέξεις	Με ψηφία	Με άβακα	Με κυβάρια
----- ----- -----	<input type="text"/>		
----- ----- -----	<input type="text"/>		
----- ----- -----	<input type="text"/>		

5) Ποιος αριθμός είναι; Να τον γράψεις με ψηφία:

Εκατό .....

Πενήντα οχτώ .....

Εξήντα τρία .....

Ογδόντα εννέα .....

Εβδομήντα πέντε .....

Έχει 4 Δεκάδες και 5 μονάδες .....

Έχει 8 Δεκάδες και 3 μονάδες .....

Έχει 9 Δεκάδες και 1 μονάδες .....

Έχει 6 Δεκάδες και 7 μονάδες .....

Έχει 3 Δεκάδες και 2 μονάδες .....

..... > ..... > ..... > ..... > .....

..... > ..... > ..... > ..... > .....



Σωτηρία Κίτσου  
<https://na-en-taxi.weebly.com/>

Βάλε τώρα τους αριθμούς από κάθε σημειωματάριο σε σειρά, ξεκινώντας από τον μεγαλύτερο.  
 Γράψε ΟΜΟΡΦΑ και ΠΡΟΣΕΧΤΙΚΑ!!!