

Όνομα: _____ Ημερομηνία: ___ / ___ / ___

11. Γνωρίζω καλύτερα τα κέρματα του ευρώ (2)

1) Να ενώσεις την μπροστινή με την πίσω πλευρά στα κέρματα:



2) Γράψε πόσα χρήματα έχει το κάθε πορτοφόλι. Μετά να ενώσεις κάθε πορτοφόλι με αυτό που μπορώ να αγοράσω.



___ ευρώ
και ___ λεπτά



___ ευρώ



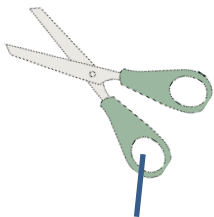
___ ευρώ και
___ λεπτά



___ ευρώ και
___ λεπτά



___ λεπτά



1€ και 10λ.



1€ και 15λ.



50 λ.



3€ και 50λ.





5€

3) Προβληματάκι:

Τα παιδιά θέλουν να αγοράσουν μπισκότα δημητριακών για το ταξίδι στη Χωχαρούπα.

Πόσο θα πληρώσουν και για τα 2;




1°

1 ευρώ και
20 λεπτά

Υπολογίζω και απαντώ.

Σχεδιάζω τα κέρματα για το 1° κουτί.



2°

1 ευρώ και
35 λεπτά

Σχεδιάζω τα κέρματα για το 2° κουτί.

Απάντηση:-----




4) Προβληματάκι:

Ο Αρμπέν θέλει να αγοράσει το αλογάκι αυτό. Έχει όμως μόνο



Να σχεδιάσεις τα χρήματα και να βρεις πόσα λεπτά του λείπουν.



3€ και 50λ.

Σχεδιάζω ΟΛΑ τα κέρματα για το αλογάκι.

Κυκλώνω όσα του λείπουν.

Απάντηση:-----

