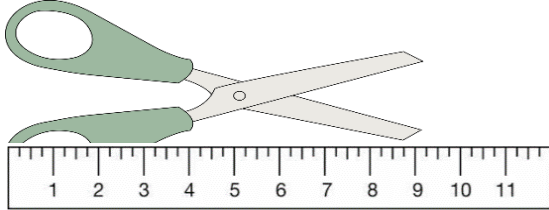



Όνομα: _____ Ημερομηνία: ___/___/___

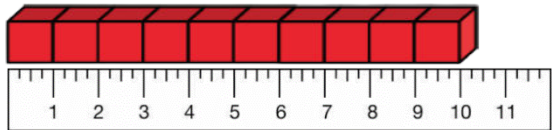
4.Μετρώ με εκατοστόμετρα (1^ο)

Γράψε για κάθε αντικείμενο το μήκος του σε εκατοστόμετρα.


Να θυμάσαι ότι αρχίζεις πάντα το μέτρημα, βάζοντας τον χάρακα από το μηδέν(0).



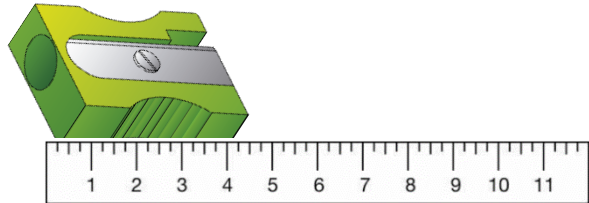
Το ψαλίδι είναι ____ εκ.




Τα κυβάρια είναι ____ εκ.



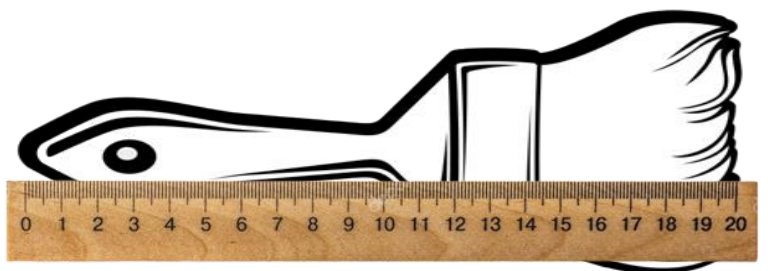
Το μολύβι είναι ____ εκ.



Η ξύστρα είναι ____ εκ.



Το τετράδιο είναι ____ εκ.



Το πινέλο είναι ____ εκ.

