


Όνομα: _____ Ημερομηνία: ___/___/___

2^ο ΕΠΑΝΑΛΗΠΤΙΚΟ ΜΑΘΗΜΑ (Κεφ. 9-15)



1) Βρες το μισό του αριθμού και να το γράψεις στα 2 αυτιά του στεφανιού:





2) Βρες το διπλάσιο του αριθμού:

Σε ό,τι σου λέω, θα απαντάς με το διπλάσιο!



Έτοιμη! Κατάλαβα!




Βρες το στόχο, για να φας το ... μπισκοτάκι!!!



Από το 25 θα φτάσω στην κοντινότερη δεκάδα. Είναι το _____.
Θέλω _____.
Μετά χρειάζομαι ακόμα _____.
Όλα μαζί είναι _____.

Από το 39 θα φτάσω στην κοντινότερη δεκάδα. Είναι το _____.
Θέλω _____.
Μετά χρειάζομαι ακόμα _____.
Όλα μαζί είναι _____.





4) Υπολόγισε τα χρήματα στα πορτοφολάκια και γράψε πόσα είναι.



Είναι _____ € και _____ λεπτά.



Είναι _____ €.



Είναι _____



5) Το δικό μου πορτοφόλι είναι το 2ο. Αγόρασα ένα νερό με 40 λεπτά και ένα κουλούρι με 60 λεπτά. Πόσα χρήματα ξόδεψα;

Υπολογίζω οριζόντια: _____

Άρα ξόδεψα _____.

Θα πάρω ρέστα _____.



60 λ.



40 λ.



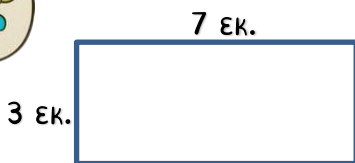
6) Ενώνω τα σχήματα και τα γεωμετρικά στερεά με το όνομά τους.



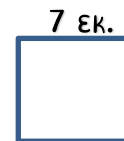
κύλινδρος	τετράγωνο	κύβος	τρίγωνο	κύκλος	πυραμίδα	ορθογώνιο παραλληλόγραμμο	στερεό ορθογώνιο	σφαίρα
-----------	-----------	-------	---------	--------	----------	------------------------------	---------------------	--------



7) Υπολόγισε την περίμετρο στα σχήματα.



Υπολογίζω οριζόντια: _____



Υπολογίζω οριζόντια: _____