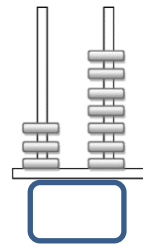
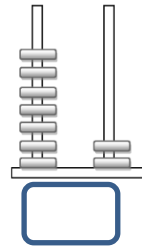
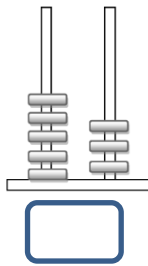
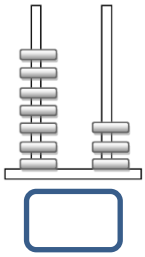


Όνομα: \_\_\_\_\_ Ημερομηνία: \_\_\_ / \_\_\_ / \_\_\_

## «ΚΕΦΑΛΑΙΑ 1-8» - (ΕΠΑΝΑΛΗΨΟΥΛΑ ΣΤΗΝ ΕΝΟΤΗΤΑ 1)

1) Ποιος αριθμός είναι σε κάθε άβακα;



Τώρα βάλε τους αριθμούς στη σειρά από τον μεγαλύτερο στον μικρότερο:

□ > □ > □ > □



### ΠΡΟΒΛΗΜΑΤΑΚΙ:

2) Η γιαγιά έχει 18 κουλουράκια και θα τα μοιράσει δίκαια στα 2 εγγονάκια της. Πόσα κουλουράκια θα πάρει το καθένα;

Εδώ ζωγραφίζω τα κουλουράκια που θα πάρει το κάθε παιδί, για να το καταλάβω.



Εδώ λογαριάζω. Αυτό που σχεδίασα το γράφω με αριθμούς.

..... + ..... = .....

Απάντηση:

-----  
-----  
-----



3) Υπολογίζω πολύ προσεχτικά:

$73-3=...$

$20+20+9=...$

$60-10=...$

$36-10=...$

$60+10+8=...$

$80-10-1=...$

$90-10-1=...$

$56+10=...$

$70+5=...$

$40+10+10=...$

$40+40+3=...$

$27-10=...$

$40+10+3=...$

$80-10=...$

$10+10+10=...$

$30+9=...$

$90-10=...$

$50+10+2=...$

$39-9=...$

$30+10=...$

$70+10=...$

$20+4=...$

$100-10=...$

$82+10=...$

4) Βρες το μισό τους:

Το μισό του 10 είναι .....

Το μισό του 6 είναι .....

Το μισό του 2 είναι .....

Το μισό του 8 είναι .....

Το μισό του 4 είναι .....

Το μισό του 100 είναι .....

Το μισό του 60 είναι .....

Το μισό του 20 είναι .....


Το μισό του 80 είναι .....

Το μισό του 40 είναι .....




5) Το βατραχάκι προχωράει μετρώντας! Βοήθησέ το να συνεχίσει:


10-10




10-10




2-2




5-5



1-1



5-5



Έτοιμος! Και σίγουρος για όλα!

Κάνω πάντα έλεγχο στο τέλος!

Εσύ έκανες;

