

14. Φτιάχνω γεωμετρικά σχήματα(2^ο)

Ας μάθουμε περισσότερα γεωμετρικά σχήματα...

Υπάρχει το ορθογώνιο παραλληλόγραμμο, αλλά και το πλάγιο παραλληλόγραμμο! Το τετράγωνο αλλά και ο ρόμβος! Το ορθογώνιο τρίγωνο, αλλά και το πολύγωνο.

Ονομάζουμε όλα τα σχήματα με κεφαλαία γράμματα στις γωνίες τους.

ορθογώνιο παραλληλόγραμμο

ορθογώνιο παραλληλόγραμμο

πλάγιο παραλληλόγραμμο

τετράγωνο

ρόμβος

Τρίγωνο

Ορθογώνιο τρίγωνο

Ορθογώνιο τρίγωνο

Ορθογώνιο τρίγωνο

Πολύγωνο

Πολύγωνο

Γιατί τα λέμε «ορθογώνια»;

Τι διαφορετικό έχει ο ρόμβος από το τετράγωνο;

Γιατί τα λέμε «πολύγωνα»;



Σωτηρία Κίτσιου/

<https://ola-en-taxi.weebly.com/>



Όνομα: _____ Ημερομηνία: _____

4. Φτιάχνω γεωμετρικά σχήματα(2^ο)



Με οδηγό τις τελείες στη σελίδα μας και βοηθό τον χάρακά σου, προσπάθησε να σχεδιάσεις κι εσύ ορθογώνια παραλληλόγραμμα, πλάγια παραλληλόγραμμα, τετράγωνα, τρίγωνα, ορθογώνια τρίγωνα και πολύγωνα. Ονόμασε τα σχήματά σου με κεφαλαία γράμματα στις γωνίες τους.





Σωτηρία Κίτσου/


<https://ola-en-taxi.weebly.com/>



Ορθογώνιο & πλάγιο παραλληλόγραμμο



1. Εκτυπώνουμε σε χαρτονάκι χρωματιστό ή λευκό.
2. Ενώνουμε με διπλόκαρφα και δείχνουμε το ορθογώνιο παραλληλόγραμμο και το πλάγιο(μετακινώντας τις πλευρές λοξά με τα διπλόκαρφα).
3. Εντοπίζουμε ομοιότητες και διαφορές.



Τετράγωνο & ρόμβος

1. Εκτυπώνουμε σε χαρτονάκι χρωματιστό ή λευκό.
2. Ενώνουμε με διπλόκαρφα και δείχνουμε το τετράγωνο και τον ρόμβο(μετακινώντας τις πλευρές λοξά με τα διπλόκαρφα).
3. Εντοπίζουμε ομοιότητες και διαφορές.

