

ΓΕΩΜΕΤΡΙΚΑ ΣΧΗΜΑΤΑ

ΕΠΙΠΕΔΑ
ΣΧΗΜΑΤΑ

- Δεν έχουν όγκο
- Δεν στέκονται/ είναι επίπεδα
- Δεν μπορώ να τα πιάσω /να τους αλλάξω θέση στο χώρο
- Τα σχεδιάζω σε χαρτί ή σε άλλη επίπεδη επιφάνεια

τετράγωνο

Ορθογώνιο
παραλληλόγραμμο

κύκλος


τρίγωνο

ΓΕΩΜΕΤΡΙΚΑ
ΣΤΕΡΕΑ

- Έχουν όγκο
- Στέκονται ή κυλούν
- Μπορώ να τα πιάσω /να τους αλλάξω θέση στο χώρο



κύβος



Ορθογώνιο
παραλληλεπίπεδο
ή
στερεό ορθογώνιο



κύλινδρος



σφαίρα



πυραμίδα

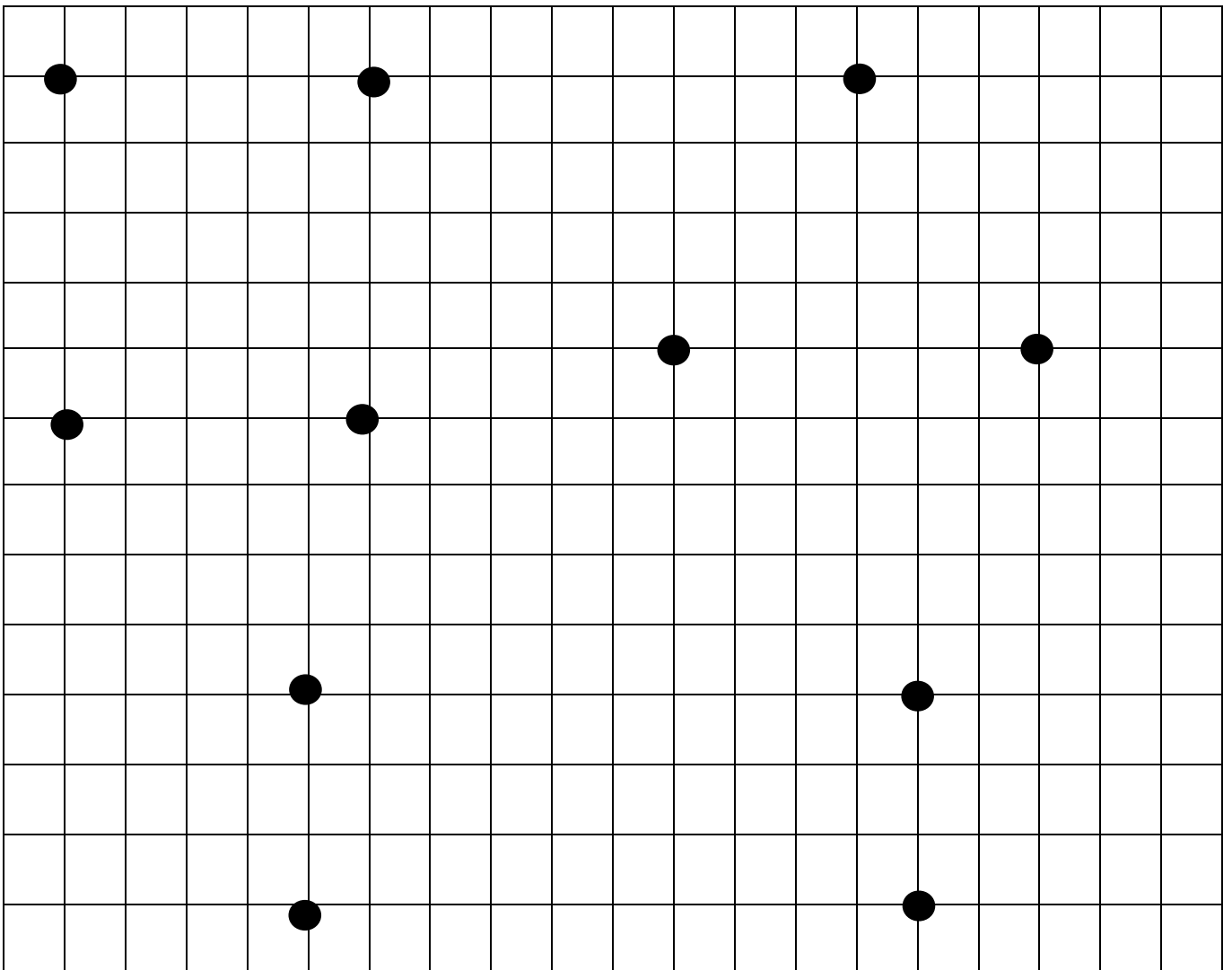
13. Γνωρίζω καλύτερα τα γεωμετρικά στερεά

Όνομα:..... Ημερομηνία:-.....-.....

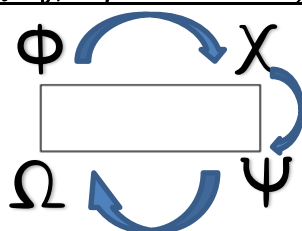
1) Με το χάρακά σου σχεδίασε πολύ προσεχτικά γεωμετρικά σχήματα:



- Ένα τετράγωνο ΑΒΓΔ
- Ένα τρίγωνο ΗΘΙ
- Ένα ορθογώνιο παραλληλόγραμμο ΚΛΜΝ



Τώρα ζωγράφισε τα σχήματα με διαφορετικό χρώμα το καθένα.



Ονομάζουμε τα γεωμετρικά σχήματα, βάζοντας ΚΕΦΑΛΑΙΑ γράμματα στις κορυφές τους. Διαβάζουμε δεξιόστροφα.



2) Το λαγουδάκι τα έχει χαμένα! Μπέρδεψε τα γεωμετρικά στερεά με τα γεωμετρικά σχήματα! Βοήθησέ το να τα ενώσει σωστά με γραμμές και μετά να τα χωρίσει σωστά σε δυο ομάδες:

κύβος

τετράγωνο

ορθογώνιο
παραλληλόγραμμο

ορθογώνιο
παραλληλεπίπεδο



σφαίρα

κύκλος

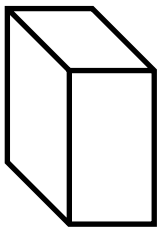
πυραμίδα

τρίγωνο

κύλινδρος



Γεωμετρικά στερεά



- 1.....
- 2.....
- 3.....
- 4.....
- 5.....

Γεωμετρικά σχήματα

- 1.....
- 2.....
- 3.....
- 4.....

Σωτηρία Κίτσιου

<https://ola-en-taxi.weebly.com/>

